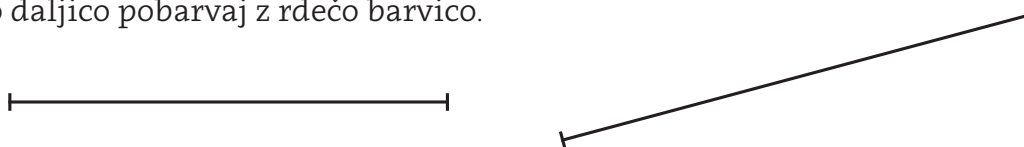



Pozdravljeni!
Zadnjič sem meril svojo pašno ograjo, a je bilo ravnilo žal prekratko ;-)
Zato sem tokrat pripravil merske vaje. Zdaj pa na delo!
Tvoj Matiček


1. Katera daljica je dolga točno 5 centimetrov? Vzemi ravnilo in izmeri. Pravilno daljico pobarvaj z rdečo barvico.



2. Kako dolga je daljica? Daljica je dolga točno ____ centimetrov.



3. Koliko centimetrov meri pot od miške do sira? Pot meri ____ cm.



4. Vidiš škatlico vžigalic? Dolga je 6 cm, široka pa 4 cm.

Dolžina: ____ cm

Širina: ____ cm

Izračunaj obseg škatlice.

Obseg: ____ cm

