


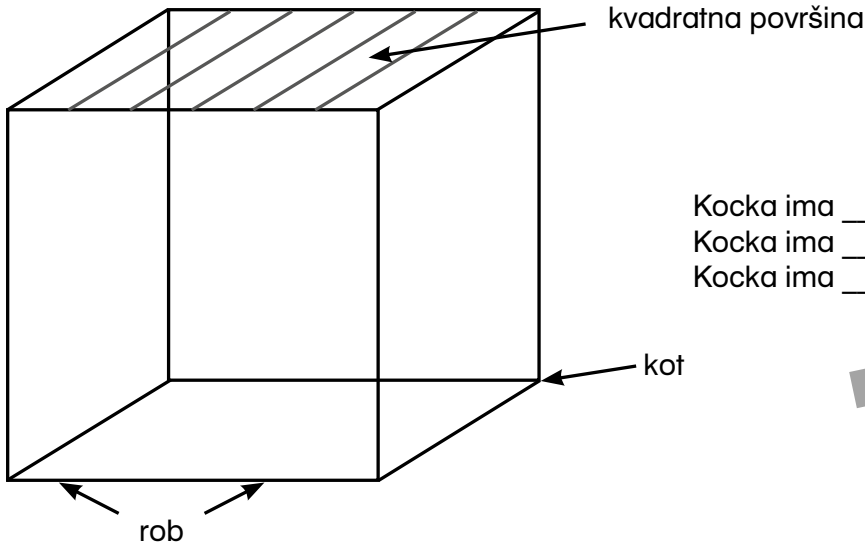
# Konjiček Matiček

Tokrat se bomo bavili s kocko in kockino mrežo. Sem že radoveden, kaj vse znaš in veš!

**Tvoj Matiček**




**Kaj veš o kocki?**



Kocka ima \_\_\_\_\_ kvadratnih površin.  
 Kocka ima \_\_\_\_\_ kotov.  
 Kocka ima \_\_\_\_\_ robov.

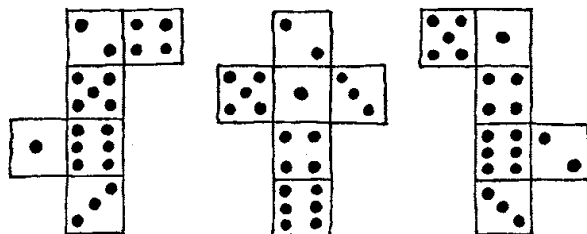
osem      šest  
 dvanajst

**Zapomni si! Število pik nasprotnih površin je vedno sedem.**



Koliko pik je nasproti štiri? \_\_\_\_\_  
 Koliko pik je nasproti dve? \_\_\_\_\_  
 Koliko pik nasproti šest? \_\_\_\_\_

**Samo ena mreža je pravilna. Obkroži jo. Potem pobarvaj nasprotna polja z isto barvo.**



**Ali veš, koliko pik ima kocka? Pobarvaj pravilno število.**

20    21    22